

PREFEITURA MUNICIPAL DE MACAPARANA – PE
CONCURSO PÚBLICO 2015

20 QUESTÕES DE PORTUGUÊS

___ O meu nome é Severino,
Não tenho outro de pia.
Como há muitos Severinos,
que é santo de romaria,
deram então de me chamar
Severino de Maria;
como há muitos Severinos
com mães chamadas Maria,
fiquei sendo o da Maria
do finado Zacarias.
(...)
E se somos Severinos
iguais em tudo na vida,
morremos de morte igual,
mesma morte severina:
que é a morte de que se morre
de velhice antes dos trinta,
de emboscada antes dos vinte
de fome um pouco por dia
(João Cabral de Melo Neto)

01- O poema narra:

- A. A história de Severino que se apresenta ao leitor explicando sua origem e seu lugar social.
- B. A trajetória de um homem chamado Severino que se destaca por ser diferente dos outros que conhecemos.
- C. A morte de um homem chamado Severino.
- D. As várias maneiras pelas quais homens nordestinos chamados Severino morreram naquele lugar.
- E. A história de homens que morreram de velhice.

02- ___ O meu nome é Severino,
Não tenho outro de pia.
Nos versos acima, 'de pia' significa:

- A. De vida
- B. De nome
- C. De batismo
- D. De pai
- E. De mãe

03- Em qual das alternativas abaixo o sentido dos versos NÃO foi alterado pela introdução de um termo:

- A. morremos de morte igual,
mesma morte severina:
que é a morte de que se morre
de velhice antes dos trinta,
de emboscada antes dos vinte
nunca de fome um pouco por dia
- B. morremos de morte igual,
mesma morte severina:
que é a morte de que se morre
de velhice antes dos trinta,
de emboscada antes dos vinte
e não de fome um pouco por dia

- C. morremos de morte igual,
mesma morte severina:
que é a morte de que se morre
de velhice antes dos trinta,
de emboscada antes dos vinte
sem fome um pouco por dia
- D. morremos de morte igual,
mesma morte severina:
que é a morte de que se morre
de velhice antes dos trinta,
de emboscada antes dos vinte
jamais de fome um pouco por dia
- E. morremos de morte igual,
mesma morte severina:
que é a morte de que se morre
de velhice antes dos trinta,
de emboscada antes dos vinte
ou de fome um pouco por dia

04- Em qual das alternativas abaixo, a manchete NÃO possui nenhuma palavra com erro de grafia?

- A. “Com apresentação de Ana Paula Farias, A Bahia que Agente Gosta ficou na vice-liderança consolidada com 4% de audiência, share de 14%.”
- B. “Não se pode descartar concerteza a saída da Grécia da zona do euro.”
- C. “Quem se aposentar apartir de agora terá uma alternativa para escapar do fator previdenciário.”
- D. “Um homem chegou ao local como se fosse um cliente e, derrepente, levanta a camisa e mostra uma arma à atendente.”
- E. “Poste cai em cima de ônibus após acidente na Zona Leste de São Paulo.”

Sustentabilidade é o conceito-chave se quisermos construir um planeta Terra onde haja qualidade de vida e preservação do meio ambiente. O termo significa a maneira de organizar a sociedade e as pessoas de forma que suas necessidades sejam supridas sem prejuízos ao meio ambiente e às outras espécies de seres vivos.

O mais interessante é que não é uma meta difícil de ser alcançada, basta apenas ter boa vontade, organização e deixar de pensar apenas em nós mesmos, lembrando que em nosso planeta há bilhões de pessoas, muitas delas em condições de vida lamentáveis e que pequenas ações podem dar grandes resultados, mesmo que isso seja a longo prazo.

Essas ações abrangem vários níveis de organização, desde a vizinhança local até o planeta como um todo.

Muitas empresas e profissionais de diversas áreas já estão buscando e desenvolvendo soluções sustentáveis, como exemplo:

O envolvimento da população

É lógico que para que a ideia de sustentabilidade tenha sucesso, a população deve ter responsabilidade e envolvimento com as questões ambientais. É preciso que cada um comece a fazer a

PREFEITURA MUNICIPAL DE MACAPARANA – PE
CONCURSO PÚBLICO 2015

sua parte, a partir do que é possível, mas tendo sempre visão de futuro, do que pode ser melhorado.

Várias pessoas e sociedades já estão mais próximas desse conceito e não se arrependem de promover a mudança de hábitos, como por exemplo, trocar as sacolas plásticas por sacolas permanentes, não abrir mão da reciclagem de lixo, evitar usar veículos particulares, partindo para os públicos que não poluem o ambiente, etc. (Smart Kids)

05- O autor do texto procura convencer o leitor a partir:

- A. Da comoção
- B. Da dúvida
- C. Da argumentação
- D. Da opinião
- E. Do desfecho surpreendente

06- O texto apresenta a sustentabilidade como:

- A. A solução para que as pessoas parem de usar as sacolas permanentemente.
- B. O meio principal pelo qual podemos encontrar estratégias eficazes de preservar o ambiente.
- C. A única maneira de salvar as espécies em extinção.
- D. Um jeito simples de se conseguir reorganizar o planeta de modo que todos usufruam dos recursos naturais sem que eles sejam renovados.
- E. Um sinônimo de boa vontade, pois só com ela poderemos mudar o mundo e nos sustentarmos sem a necessidade de sacrifícios nem renúncias por parte da população.

07- Em qual das alternativas o vocábulo sublinhado foi substituído pela palavra indicada, corretamente, sem prejuízo do sentido do texto:

- A. “construir um planeta onde haja qualidade de vida e preservação do meio ambiente.”
PROTEÇÃO
- B. “O termo significa a maneira de organizar a sociedade e as pessoas de forma que suas necessidades sejam supridas sem prejuízos ao meio ambiente e às outras espécies de seres vivos.”
DEBANDADAS
- C. “O mais interessante é que não é uma meta difícil de ser alcançada...”
FARSA
- D. “em nosso planeta há bilhões de pessoas, muitas delas em condições de vida lamentáveis”
ESTIMÁVEIS
- E. “Essas ações abrangem vários níveis de organização”
EXCETUAM

08- Quanto à significação, os substantivos podem ser comuns, próprios, abstratos, concretos e coletivos. Em qual das alternativas abaixo o substantivo retirado do texto está INCORRETAMENTE relacionado ao que representa?

- A. Terra - representa apenas um ser da mesma espécie
- B. Vontade - representa um sentimento.
- C. Planeta - representa todos os seres da mesma espécie.
- D. Pessoas - representa uma ação

E. População - representa um grupo de seres da mesma espécie

09- Formam o plural da mesma forma que ‘sustentável’:

- A. Canal e farol
- B. Leão e visão
- C. Perfil e pólen
- D. Paz e grão
- E. Junior e carretel

10- Em qual dos trechos retirados do texto há uma verbo no tempo presente e outro no tempo passado, respectivamente:

- A. “**Sustentabilidade** é o conceito-chave se quisermos construir um planeta Terra onde haja qualidade de vida e preservação do meio ambiente.”
- B. “O mais interessante é que não é uma meta difícil de ser alcançada...”
- C. “lembrando que em nosso planeta há bilhões de pessoas...”
- D. “É lógico que para que a ideia de sustentabilidade tenha sucesso, a população deve ter responsabilidade”
- E. “Várias pessoas e sociedades já estão mais próximas desse conceito e não se arrependem de promover a mudança de hábitos...”

11- Assinale a alternativa correta quanto as palavras acentuadas retiradas do texto e suas respectivas regras:

- A. ‘espécies’ – paroxítona terminada em ditongo decrescente
- B. ‘prejuízos’ – hiato com vogal I e U tônicas
- C. ‘difícil’ - oxítona terminada em IL
- D. ‘já’ – monossílabo tônico
- E. ‘lógico’ – paroxítona terminada em O

12- Em qual das frases a seguir, a palavra sublinhada dá a ideia de lugar:

- A. “se eu considerar que uma situação é desesperadora, já estarei derrotado desde o início.”
- B. “Mesmo entre sofrimentos e dores, busque ser alegre.”
- C. “Continue sem desânimo, porque você é o único responsável por seus atos.”
- D. “Se tiver que discutir, faça-o com serenidade.”
- E. “Não duvide do poder da bondade, embora pareça que tudo está contra você.”

Tomara

Que você volte depressa

Que você não se despeça

Nunca mais do meu carinho

E chore, se arrependa

E pense muito

Que é melhor se sofrer junto

Que viver feliz sozinho

Tomara

Que a tristeza te convença

Que a saudade não compense

PREFEITURA MUNICIPAL DE MACAPARANA – PE
CONCURSO PÚBLICO 2015

E que a ausência não dá paz
E o verdadeiro amor de quem se ama
Tece a mesma antiga trama
Que não se desfaz

E a coisa mais divina
Que há no mundo
É viver cada segundo
Como nunca mais... (Vinícius de Moraes)

13- No poema, o eu-lírico:

- A. Sofre, pois a amada se foi e ele tem certeza de que ela não voltará.
- B. Chora e está arrependido por ter permitido o afastamento da amada.
- C. Chega à conclusão de que não deveria ter saído do convívio de quem ama.
- D. Apela para o divino para que quem lhe ama apareça ao menos um segundo.
- E. Torce para que a amada volte e não se convença de que a distância é a melhor saída para os dois.

14- No poema, a palavra ‘tomara’ vem repetida e introduz duas estrofes. Qual sentimento do eu-lírico ela revela:

- A. Dúvida
- B. Desejo
- C. Tristeza
- D. Solidão
- E. Pressa

15- Acerca das palavras empregadas no texto e seu significado, assinale a alternativa correta:

- A. ‘depressa’ - modificou o verbo ‘voltar’ com a ideia de tempo.
- B. ‘despeça’ – é verbo e expressa uma situação hipotética imaginada pelo eu-lírico.
- C. ‘carinho’ – é um adjetivo e caracteriza ‘meu’.
- D. ‘Sozinho’ - é um substantivo e necessita da existência de outro para se concretizar.
- E. ‘e’ – é uma forma do verbo ‘ser’.

16- Em qual dos períodos a seguir ‘segundo’ tem o mesmo sentido que em ‘É viver cada segundo’?

- A. “Operário cai do segundo andar de prédio na Praia do Canto, em Vitória.”
- B. “Record sondou Xuxa por 1 ano e meio, segundo a própria apresentadora.”
- C. “Deixou algo aqui, e pouco encontro
Seus sinais
Menos de um segundo e eu já perco o ar”
- D. “_Em primeiro lugar, o banheiro já está cheio. Em segundo lugar, você não é fadinha, é caçador.”
- E. E segundo todos os funcionários, inclusive os mais antigos, a prática era comum naquela repartição pública.

17- Leia o texto e assinale a alternativa cujas palavras completam corretamente suas lacunas:

Minha mulher e eu temos o segredo para fazer um casamento durar:
Duas vezes por semana, vamos __ um ótimo restaurante, com uma comida gostosa, uma boa bebida e um bom companheirismo. Ela vai __ terças e eu __ quintas.
Eu levo minha mulher__ todos os lugares, mas ela sempre acha o caminho de volta. Perguntei a ela onde ela gostaria de ir no nosso aniversário de casamento “em algum lugar que eu não tenha ido lá __ muito tempo!” Então, sugeri a cozinha.
Nós sempre andamos de mãos dadas... Se eu soltar, ela vai às compras!
Lembrem-se: casamento é__ causa número 1 para o divórcio.
(Luis Fernando Veríssimo)

- A. A - às- às - a - há - a
- B. À - às - às - há - a - a
- C. À - as - as - a - à- há
- D. A - as - as- há - há- a
- E. A - às - às- à- há - a

18- Para dar o tom humorístico ao texto, o autor usa o recurso:

- A. Da vingança
- B. Da ironia
- C. Do suspense
- D. Do sofrimento
- E. Da coesão

19- Foram observadas as regras de concordância apenas em:

- A. A multidão gritaram o tempo todo da partida.
- B. Dessa vez, fomos nós quem resolveu a questão.
- C. É certo que não dar pra todos irem na primeira viagem.
- D. Haviam várias pessoas esperando a saída do resultado do concurso.
- E. Ela foi uma das que chegaram antes.

20- O verbo foi corretamente flexionado em:

- A. Todas as vezes em que visto roupas pretas, são bastante.
- B. Só poço dizer que estudei bastante para esse concurso.
- C. Não é normal que eu não caiba mais nessas roupas.
- D. Sempre que passo naquela árvore, mido minha altura como no tempo de criança.
- E. Era naquele curso que todos ponhavam sua esperança.

PREFEITURA MUNICIPAL DE MACAPARANA – PE
CONCURSO PÚBLICO 2015

20 QUESTÕES DE CONHECIMENTOS ESPECÍFICOS

21- Nos banheiros deve haver, no mínimo, uma tomada junto ao lavatório a que distância mínima do limite do boxe?

- A. 30cm
- B. 60cm
- C. 100cm
- D. 120cm
- E. 150cm

22 - Pode-se executar o reforço no próprio local de Vergas e contravergas para vãos de até:

- A. 50 cm
- B. 80 cm
- C. 100 cm
- D. 150 cm
- E. 180 cm

23- A resistência a compressão da argamassa deve ter aproximadamente quantos por centos da resistência do bloco?

- A. 10 %
- B. 30%
- C. 50%
- D. 70%
- E. 110%

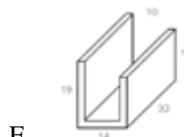
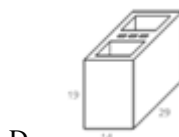
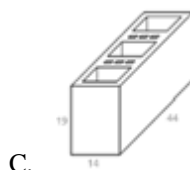
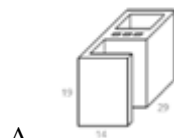
24 - O consumo aproximado de telhas por metro quadrado de telhado de telhas do tipo colonial é de:

- A. 25
- B. 50
- C. 30
- D. 10
- E. 16

25 - Indique a sequência correta de serviços em banheiro:

- A. Alvenaria, Tubulação, conexões, válvula de descarga, caixa sifonada, registros, Piso cerâmico, Louças sanitárias, bancadas, metais sanitários, Azulejo, e arremates do azulejo.
- B. Alvenaria, Tubulação, conexões, válvula de descarga, caixa sifonada, registros, Azulejo, Piso cerâmico, Louças sanitárias, bancadas, metais sanitários e arremates do azulejo.
- C. Tubulação, conexões, válvula de descarga, caixa sifonada, registros, Alvenaria, Piso cerâmico, Louças sanitárias, bancadas, metais sanitários Azulejo e arremates do azulejo.
- D. Tubulação, conexões, válvula de descarga, caixa sifonada, registros, Alvenaria, Azulejo, Piso cerâmico, Louças sanitárias, bancadas, metais sanitários e arremates do azulejo.
- E. Alvenaria, Azulejo, Piso cerâmico, Tubulação, conexões, válvula de descarga, caixa sifonada, registros, Louças sanitárias, bancadas, metais sanitários e arremates do azulejo.

26 - Indique a figura que representa um bloco para saída de tubulação:



27 - A espessura mínima do contrapiso deve ser de:

- A. 0,5 cm
- B. 1,0 cm
- C. 1,5 cm
- D. 2,0 cm
- E. 2,5 cm

28 - Aplicação em alvenaria estrutural. Permite que as instalações elétricas e hidráulicas fiquem embutidas já na fase de levantamento da alvenaria:

- A. Bloco de concreto de vedação.
- B. Bloco sílico-calcáreo.
- C. Bloco de concreto estrutural.
- D. Bloco cerâmico de vedação.
- E. Bloco de Tijolo maciço.

29 - Qual a quantidade de tijolos de barro maciço (5 cm x 10 cm x 20 cm) necessários, por metro quadrado (m²), para fazer uma parede de Meia?

- A. 13 blocos.
- B. 92 blocos.
- C. 23 blocos.
- D. 56 blocos.
- E. 61 blocos.

PREFEITURA MUNICIPAL DE MACAPARANA – PE
CONCURSO PÚBLICO 2015

30 - Após a aplicação para a secagem do chapisco, antes de promover o lançamento da argamassa de regularização deve-se aguardar um período de:

- A. 12 a 24 horas.
- B. 2 a 3 dias.
- C. 7 a 10 dias.
- D. 5 a 15 dias.
- E. 15 a 30 dias.

31 - São pedras naturais ideais para aplicação em piso interno, EXCETO:

- A. Ardósia
- B. Pedra sabão
- C. Miracema
- D. Pedra Goiás
- E. São Tomé

32 - São qualidades essenciais de uma boa cobertura, EXCETO:

- A. Permeabilidade e estanqueidade.
- B. Resistência a esforços mecânicos.
- C. Inalterabilidade de forma e dimensões.
- D. Secagem rápida após as chuvas.
- E. Facilidade de execução e manutenção.

33 - Régua cuja graduação leva em conta a altura do tijolo e espessura das juntas:

- A. Escantilhão
- B. Escória granulada
- C. Estuque
- D. Tessela
- E. Cantoneira

34 - Montagem de um “esqueleto” de perfis de aço galvanizado que são fechados com placas de gesso acartonado.

Esta é a definição:

- A. Drywall
- B. Power
- C. Ghorfa
- D. Pazo
- E. Palafita

35 - Para o estoque do cimento, recomenda-se pilhas de:

- A. 5 sacos
- B. 10 sacos
- C. 15 sacos
- D. 20 sacos
- E. 25 sacos

36 - O emboço é aplicado somente após o endurecimento total do chapisco e com as tubulações de instalações elétricas e hidráulicas, de esgoto, gás, etc., já embutidas nas paredes. De acabamento áspero, ele deve ter uma espessura de:

- A. 0,5 a 1,0 cm
- B. 1,0 a 2,5 cm
- C. 2,0 a 3,5 cm
- D. 2,5 a 4,5 cm
- E. 2,5 a 5,5 cm

37 - Qualquer que seja o elemento escolhido para a execução do muro a cada, no máximo, de _____, devemos deixar uma junta de dilatação de_____.

A alternativa que preenche corretamente as lacunas é:

- A. 2,00 a 5,00m / 0,5cm
- B. 5,00 a 10,00m / 1,0cm
- C. 4,00 a 8,00m / 1,0cm
- D. 10,00 a 15,00m / 1,0cm
- E. 15,00 a 20,00m / 2,0cm

38 - A laje Treliça é constituída por:

- A. Uma armadura treliçada, variando de 5,0 a 15 cm de altura, e a mesa inferior concretada com 5 cm de espessura e de 5 a 8cm de largura.
- B. Uma armadura treliçada, variando de 9,0 a 35 cm de altura, e a mesa inferior concretada com 3 cm de espessura e de 15 a 18cm de largura.
- C. Uma armadura treliçada, variando de 12 a 25 cm de altura, e a mesa inferior concretada com 8 cm de espessura e de 8 a 25cm de largura.
- D. Uma armadura treliçada, variando de 7,0 a 25 cm de altura, e a mesa inferior concretada com 3 cm de espessura e de 12 a 13cm de largura.
- E. Uma armadura treliçada, variando de 10 a 45 cm de altura, e a mesa inferior concretada com 5 cm de espessura e de 15 a 23cm de largura.

39 - Para arandelas e chuveiros, a altura em relação ao piso acabado das caixas embutidas em paredes deve ser de:

- A. 0,30 a 0,90 m
- B. 0,90 a 1,10 m
- C. 1,10 a 1,80 m
- D. 1,90 a 2,10 m
- E. 2,10 a 2,80 m

40 - Referente aos blocos de concreto celular autoclavado é INCORRETO afirmar:

- A. São produtos totalmente industrializados, produzidos em poucas fábricas específicas.
- B. Apresentam precisão nas dimensões e são facilmente serrados, eliminando o desperdício por quebras.
- C. Devido ao processo de fabricação com agente expensor e utilização de autoclave, torna-se um produto com alta densidade (pesado).
- D. Não devem ser utilizados quando úmidos devido à variação dimensional na secagem.
- E. Exibem propriedades de isolamento térmicoacústico superior aos blocos de concreto e tijolo furado.